

آموزش مبرزی



کارگردان
شهری ۲

(پنجمی چهارم)

ریاضی

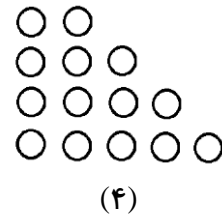
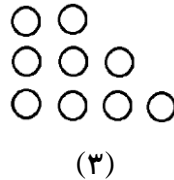
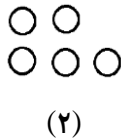
درس:

۹۹/۰۶/۲۳

تاریخ:

۱- رادمهر با مادرش قرار گذاشته بود بعد از این که پول‌هایش را جمع کرد یک کتاب بخرد، او روز اول ۲۰۰ تومان داخل قلمک انداخت و هر روز ۱۵۰ تومان به آن اضافه کرد، اگر قیمت هر کتاب ۱۰۰۰ تومان باشد، او پس از چند روز می‌تواند کتاب مورد علاقه‌اش را بخرد؟

۲- ایلیا الگوی زیر را با استفاده از دایره‌هایی ساخته است و این الگو را به شکل زیر ادامه داده است، به نظر شما ایلیا باید برای شکل هفتم از چند دایره استفاده کند؟



؟ شکل (۷)

۳- روزی محمد برای خرید لوازم بهداشتی به یک فروشگاه رفت، قیمت هر قالب صابون ۸۰۰۰ تومان، قیمت هر بطری شامپو ۹۰۰۰ تومان و قیمت هر قوطی کرم صورت ۱۰۰۰۰ تومان است، هم‌چنین او می‌تواند همه‌ی آن‌ها را در یک بسته به قیمت ۲۴۵۰۰ تومان بخرد، اگر محمد به جای خریدن هر یک از آن‌ها کل بسته را بخرد، چند تومان صرفه‌جویی کرده است؟